

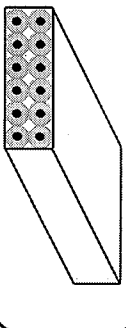
5 - 5

8


名前

【復習】

1 ダースは 12 本




1 ダース 600 円のえんぴつと, 10 本で 450 円のえんぴつでは, 1 本あたりのねだんはどちらが何円高いでしょう。



12 本  
600 円

1 本あたりのねだん ↓

$$600 \div 12 = 50$$



10 本  
450 円

1 本あたりのねだん ↓

□ ÷ □ = □


□

□

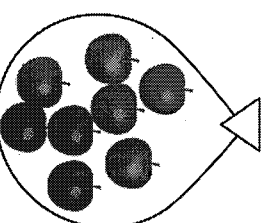
答え. (                      ) のえんぴつが (                      ) 円高い。

【練習】

3 こで 420 円のりんごと,  
1 ふくろ 8 個入りで 1000 円の  
りんごは, 1 個あたりのねだん  
はどちらが何円高いでしょう。



3 個  
420 円



8 個  
1000 円

式

答え.

【復習】

$$450 \div 10 = 45$$

答え. 1 ダース 600 円のえんぴつが 5 円高い。

【練習】

$$420 \div 3 = 140$$

$$1000 \div 8 = 125$$

$$140 - 125 = 15$$

答え. 3 個で 420 円の

りんごが 15 円高い。

5 - 8

14-1

## 【復習】

割合＝くらべる量÷もとにする量

割合は、もとにする量を1としたとき  
何倍にあたるかを表しているよ！

- 5年生80人のうち、サッカークラブに入っている人は12人です。  
サッカークラブの人数は5年生全員の何倍ですか。

・ くらべる量    サッカークラブに入っている人……  人

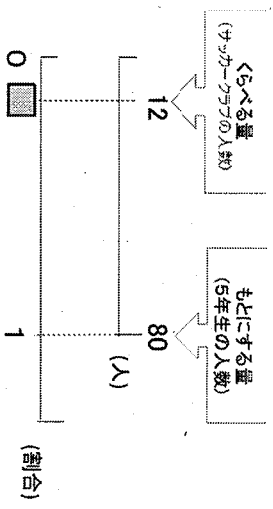
・ もとにする量    5年生全員……  人

(式)    くらべる量÷もとにする量

$$= \quad \div \quad =$$

$$= \quad \div \quad =$$

答え  倍



## 【練習】

- ① 音楽クラブの定員は10人です。

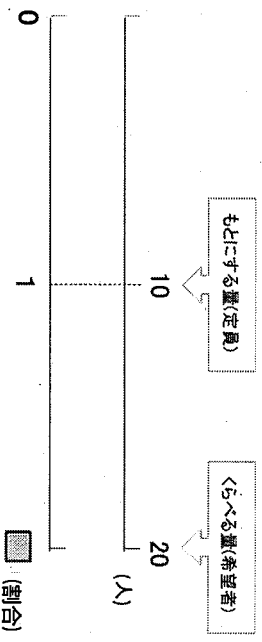
希望者は20人です。

希望者は定員の何倍ですか。

(式)

$$\quad \div \quad =$$

答え  倍



- ② サッカークラブの定員は40人です。

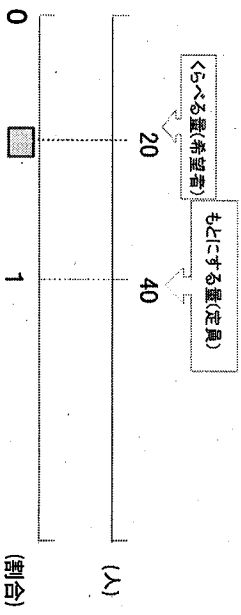
希望者は20人です。

希望者は定員の何倍ですか。

(式)

$$\quad \div \quad =$$

答え  倍



【復習】 12人, 80人    式:  $12 \div 80 = 0.15$     答え. 0.15倍

【練習】 ①式:  $20 \div 10 = 2$     答え. 2倍

②  $20 \div 40 = 0.5$     答え. 0.5倍

5 - 8

14-2

## 【復習】

割合は百分率(%)や歩合でも表すことができます。

下の表に百分率や歩合を書き入れて、表を完成させましょう。

割合を表す 小数	1	0.1	0.01	0.001
百分率	100%			
歩合	10割			

## 【練習】

1 ( ) に合う数字を書きましょう。

①0.04は( ) %

②0.1は( ) %

③0.35は( ) %

④1.15は( ) %

⑤1.04は( ) %

2 ( ) に割合を表す小数を書きましょう。

⑥55%は( )

⑦80%は( )

⑧5%は( )

⑨105%は( )

⑩150%は( )

## 【復習】

割合を表す 小数	1	0.1	0.01	0.001
百分率	100%	10%	1%	0.1%
歩合	10割	1割	1分	$\frac{1}{10}$ 厘

## 【練習】

①4

②10

③35

④115

⑤104

⑥0.55

⑦0.8

⑧0.05

⑨1.05

⑩1.5